

4. Характеристика структуры КИМ

5

5. Распределение заданий диагностической работы по содержанию, проверяемым умениям и видам деятельности

Таблица 1. Распределение заданий по проверяемым умениям и видам деятельности

<i>№ задания</i>	<i>Виды умений и познавательной деятельности</i>	<i>Уровень сложности и (б-базовый, п-повышенный)</i>	<i>Максимальный первичный балл</i>
<i>1</i>		<i>б</i>	<i>1</i>
<i>2</i>		<i>б</i>	<i>1</i>
<i>3</i>	Проверяются действия универсального характера: мысленно моделировать предложенную ситуацию, находить число одинаковых частей, из которых составлено целое.	<i>б</i>	<i>2</i>
<i>4</i>	Проверяются действия универсального характера: планировать ход решения, мысленно конструировать ситуацию нахождение верного ответа из информации, представленной в таблице.	<i>б</i>	<i>1</i>
<i>5</i>		<i>Б</i>	<i>1</i>

	Проверяются действия универсального характера: устанавливать зависимость между данными, представленными в соседних столбцах таблицы, обобщать информацию, применить арифметические действия и выбрать правильный ответ.		
6	Применение финансовых знаний и понимания.	6	2
7	Проверяются действия универсального характера: интерпретировать данные, приведенные в тексте и на рисунке; учитывать все условия, находить разные решения практической задачи.	6	2
	Итого		10

7. Распределение заданий КИМ по уровням сложности

4

(1,2,4,5) 3-

).

Таблица 2. Распределение заданий экзаменационной работы по уровням сложности

			10
	4	4	40%
	3	6	60%
	7	10	100%

8. Продолжительность итоговой диагностической работы

40

- 1) 1,2,4,5 3 5
- 2) 3,6,7 7 10

9. Система оценивания отдельных заданий и работы в целом.

3,6,7

0 - 2

10

Таблица 3. Таблица перевода баллов в отметки по пятибалльной шкале

	«2»	«3»	«4»	«5»
	0-2	3-5	6-8	9-11

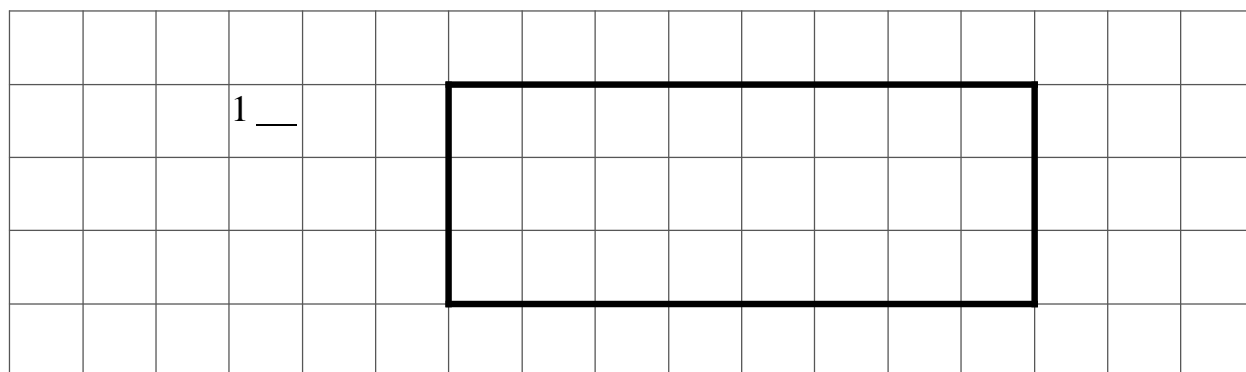
Промежуточная аттестация по
математической грамотности КИМ 5
класс
Демонстрационный вариант

Задание 1 «Акция».

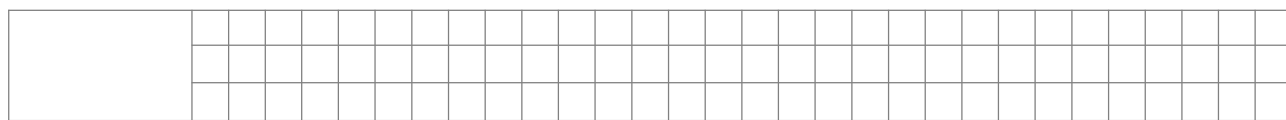


Задание 1. «Акция»


Задание 2. «Прямоугольник»



Задание 2. «Прямоугольник» 1 из 2.



Задание 3. «Прямоугольник» 2 из 2.



Задание 7.

Запишите в таблице названия этих предметов.

Промежуточная аттестация (итоговый контроль) по
математической грамотности 5

Задание 1

Ответ 6000 руб

Задание 2

-

Задание 3

2

Задание 4

Задание 5

Задание 6

Ответ

- 6500

Задание 7
